

## Úkoly na 2. týden

1 Vypočítej.

Pozorně počítej řetězy.

$7 + 3 + 2 + 5 =$ _____	$18 - 3 - 2 - 3 =$ _____	$8 + 2 + 6 - 4 =$ _____
$10 + 5 + 4 + 1 =$ _____	$20 - 4 - 1 - 2 =$ _____	$17 - 6 + 3 + 5 =$ _____
$12 + 1 + 6 + 1 =$ _____	$19 - 5 - 2 - 2 =$ _____	$12 + 8 - 7 + 2 =$ _____

2 Maminka dala na mísu 4 věnečky, 3 rohlíčky a 3 indiánky.


Kolik je to celkem zákusků? V této úloze budeš postupně přidávat.

Výpočet bude taky řetěz. Zkoušku nedělej.

Znázorni:

Vypočítej:

Napiš odpověď: Je tam .... zákusků.



3 V košíčku bylo 17 jahod. Karel dostal 5 jahod. Mirka dostala 2 jahody.

Kolik jahod zůstalo v košíčku? V této úloze postupně ubírej. Zkoušku nedělej.

Znázorni:


10 ~~o~~ ~~o~~ ~~o~~ ~~o~~ ~~o~~ ~~o~~ ~~o~~

Vypočítej:

Napiš příklad

Napiš odpověď:

Zbylo .... jahod.



4 Vypočítej.

Vypočítej do sešitu.

5 Procvičuj.

$19 - 4 =$ _____	$20 - 5 =$ _____	$16 - 4 =$ _____	$13 + 2$	$15 + 3$
$15 + 1 =$ _____	$14 + 4 =$ _____	$13 + 3 =$ _____	$16 - 2$	$16 - 5$
$20 - 7 =$ _____	$20 - 2 =$ _____	$14 + 5 =$ _____	$17 + 2$	$15 - 4$
$12 + 8 =$ _____	$17 - 4 =$ _____	$20 - 9 =$ _____	$13 + 6$	$20 - 0$
$19 - 6 =$ _____	$15 - 1 =$ _____	$16 + 3 =$ _____	$19 - 2$	$16 - 3$

6 Vypočítej.

Katka váží 18 kg. Jára váží o 5 kg méně. Jára váží \_\_\_\_\_ kg.

Jára váží o 5 méně, musíme...

7 Vypočítej řetězy,

$5 + 5 + 3 + 4 + 2 + 1 =$ _____	$10 - 3 - 2 - 1 - 2 - 2 =$ _____
$2 + 7 + 1 + 6 + 3 + 1 =$ _____	$10 - 1 - 4 - 1 - 1 - 1 =$ _____
$3 + 3 + 3 + 1 + 4 + 4 =$ _____	$20 - 5 - 3 - 2 - 7 - 3 =$ _____
$4 + 3 + 3 + 5 + 2 + 2 =$ _____	$20 - 6 - 4 - 3 - 2 - 1 =$ _____
$1 + 9 + 2 + 4 + 2 + 1 =$ _____	$20 - 1 - 2 - 3 - 4 - 8 =$ _____

Zkus tuto stránku udělat úplně sám. Až potom popros o pomoc.

## SOUHRNNÉ OPAKOVÁNÍ

(Znázorňování úloh není povinné.)

1 Vypočítej.

$6 + 3 =$	$7 + 2 =$	$8 + 2 =$	max. 12 bodů
$2 + 4 =$	$3 + 5 =$	$3 + 6 =$	
$5 + 5 =$	$6 + 2 =$	$4 + 4 =$	
$4 + 6 =$	$4 + 5 =$	$7 + 3 =$	

2 Vypočítej.

$8 - 6 =$	$9 - 5 =$	$4 - 3 =$	max. 12 bodů
$6 - 2 =$	$4 - 3 =$	$8 - 5 =$	
$7 - 4 =$	$9 - 7 =$	$6 - 4 =$	
$10 - 7 =$	$10 - 4 =$	$10 - 9 =$	

3 Klárka měla 8 bonbónů. 2 bonbóny dala tátovi. Kolik bonbónů jí zbylo?

Znázorni:

Vypočítej:

Napiš odpověď: Zbylo jí .... bonbónů.



max.  
2  
body

4 Tereзка nakreslila 6 jablíček a 4 hrušky. Kolik kusů ovoce nakreslila?

Znázorni:

Vypočítej:

Napiš odpověď: Nakreslila .... kusů ovoce.



max.  
2  
body

5 Vypočítej.

$13 + 5 =$	$10 + 7 =$	$11 + 8 =$	max. 12 bodů
$12 + 4 =$	$14 + 6 =$	$13 + 2 =$	
$17 + 2 =$	$16 + 3 =$	$17 + 3 =$	
$13 + 4 =$	$15 + 5 =$	$10 + 8 =$	

6 Vypočítej.

$14 - 3 =$	$15 - 3 =$	$18 - 3 =$	max. 12 bodů
$17 - 5 =$	$18 - 6 =$	$14 - 4 =$	
$16 - 2 =$	$19 - 4 =$	$17 - 6 =$	
$20 - 7 =$	$20 - 3 =$	$20 - 5 =$	

7 V obchodě s hračkami měli 11 autíček a 3 panenky. Kolik hraček je to celkem?

Znázorni:

Vypočítej:

Napiš odpověď: Je tam .... hraček.




max.  
2  
body

8 Maminka přinesla 20 banánů. Děti 6 banánů snědly. Kolik banánů zbylo?

Znázorni:




Vypočítej:

Napiš odpověď: Zbylo .... banánů.



max.  
2  
body

9 Vybarvi. ■ ■ ● ▲



max.  
4  
body

Celkový počet bodů:

(max. 60 bodů)

**Příště nás čeká nový sešit! Mějte se pěkně. HH**